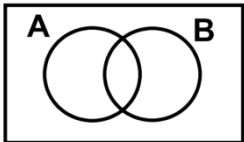


سؤالات امتحان نهایی درس: ریاضی و آمار ۳		رشته: ادبیات و علوم انسانی-علوم و معارف اسلامی		تعداد صفحه: ۳		ساعت شروع: ۸ صبح	
پایه: دوازدهم دوره دوم متوسطه		نام و نام خانوادگی:		تاریخ امتحان: ۱۴۰۰/۶/۲۷		مدت امتحان: ۱۲۰ دقیقه	
دانش آموزان روزانه، بزرگسال و داوطلبان آزاد سراسر کشور در شهریور ماه سال ۱۴۰۰				مرکز سنجش و پایش کیفیت آموزشی			
ردیف		توجه: استفاده از ماشین حساب ساده (دارای چهار عمل اصلی، جذر و درصد) بلامانع است. سؤالات (پاسخ نامه دارد)					
نمره							

۱/۲۵	<p>جاهای خالی را با عبارات مناسب تکمیل کنید.</p> <p>الف) پیشامد A' زمانی رخ می دهد که پیشامد رخ ندهد.</p> <p>ب) هر حالت از کنار هم قرار گرفتن ۵ شیء متمایز را یک از آن ۵ شیء می نامیم.</p> <p>پ) در انتخاب r شیء از بین n شیء، جابه جایی اشیاء اهمیت ندارد.</p> <p>ت) بیان یا مفهوم مساله، گام چرخه آماری در حل مسائل است.</p> <p>ث) مقدار $\frac{0!}{1!}$ برابر است.</p>	۱
۱	<p>گزینه صحیح را انتخاب کنید.</p> <p>الف) احتمال پیشامد نشدنی برابر کدام است؟</p> <p>۱) صفر ۲) ۱ ۳) $\frac{1}{2}$ ۴) $\frac{1}{6}$</p> <p>ب) کدام نمودار، بهتر نشان می دهد که داده ها متراکم تر و پراکنده تر است؟</p> <p>۱) مستطیلی ۲) دایره ای ۳) میله ای ۴) جعبه ای</p> <p>پ) گام سوم در چرخه آمار، در حل مسائل می باشد؟</p> <p>۱) بحث و نتیجه گیری ۲) گردآوری و پاک سازی داده ها ۳) طرح و برنامه ریزی ۴) تحلیل داده ها</p> <p>ت) اگر در داده ها، داده دور افتاده وجود نداشته باشد کدام معیار گرایش به مرکز مناسب است؟</p> <p>۱) مد ۲) انحراف معیار ۳) میانگین ۴) میانه</p>	۱
۱	<p>از بین ۳ کتاب ریاضی متمایز و ۲ کتاب فیزیک متمایز و ۴ کتاب ادبیات متمایز به چند طریق می توان:</p> <p>الف) یک کتاب برای مطالعه انتخاب کرد.</p> <p>ب) یک کتاب ریاضی انتخاب کرد.</p>	۱
۰/۵	<p>در شکل زیر پیشامد خواسته شده را سایه بزنید.</p> <p>"پیشامد A یا B رخ دهد"</p> 	۴
۱	<p>با ارقام ۱، ۲، ۳، ۴، ۵ چند عدد سه رقمی بدون تکرار ارقام می توان نوشت؟</p>	۵
	«ادامه سؤالات در صفحه دوم»	


سؤالات امتحان نهایی درس: ریاضی و آمار ۳		رشته: ادبیات و علوم انسانی - علوم و معارف اسلامی		تعداد صفحه: ۳		ساعت شروع: ۸ صبح	
پایه: دوازدهم دوره دوم متوسطه		نام و نام خانوادگی :		تاریخ امتحان: ۱۴۰۰/۶/۲۷		مدت امتحان: ۱۲۰ دقیقه	
دانش آموزان روزانه، بزرگسال و داوطلبان آزاد سراسر کشور در شهریور ماه سال ۱۴۰۰				مرکز سنجش و پایش کیفیت آموزشی			
ردیف		توجه : استفاده از ماشین حساب ساده (دارای چهار عمل اصلی ، جذر و درصد) بلامانع است. سؤالات (پاسخ نامه دارد)					
نمره							

۶	یک سکه و یک تاس را با هم پرتاب می کنیم. الف) فضای نمونه ای این آزمایش را بنویسید. ب) پیشامد A که در آن سکه پشت و تاس عدد فرد بیاید را بنویسید.	۱
۷	خانواده ای دارای ۲ فرزند است. مطلوب است محاسبه احتمال اینکه: الف) هر دو فرزند دختر باشند. ب) همه فرزندان دارای یک جنسیت باشند.	۱
۸	با توجه به داده های زیر میانگین و میانه آن ها را به دست آورید. $۴ - ۳ - ۴ - ۲ - ۸ - ۳ - ۷ - ۵ - ۱ - ۳$	۱/۲۵
۹	جمله عمومی (ضابطه تابعی) یک دنباله به صورت $a_n = \frac{n+1}{n}$ است. چهار جمله اول این دنباله را بنویسید.	۱
۱۰	سه عدد را به گونه ای میان اعداد ۱۵ و ۲۳ قرار دهید که یک دنباله حسابی با اختلاف مشترک مثبت تشکیل دهند.	۱/۵
۱۱	مجموع بیست جمله اول دنباله حسابی زیر را با استفاده از فرمول به دست آورید. $۱, ۳, ۵, ۷, \dots$	۱/۵
۱۲	در یک دنباله حسابی جمله اول برابر ۲۵ و اختلاف مشترک برابر ۲۰ است. کدام جمله دنباله برابر ۲۲۵ است؟	۱/۵
۱۳	اگر $x + ۳$ و ۴ و $x - ۳$ سه جمله متوالی یک دنباله هندسی باشند، مقادیر x را به دست آورید.	۱/۲۵
۱۴	کدامیک از دنباله های زیر هندسی است؟ در صورت مثبت بودن پاسخ، نسبت مشترک را بنویسید. پ) $۱۰۰۰, ۱۰۰, ۱۰$ ب) $۲, ۸, ۱۴, \dots$ الف) $۲, ۸, ۳۲, \dots$	۱
۱۵	با توجه به دنباله روبرو به سوالات زیر پاسخ دهید. الف) ضابطه بازگشتی این دنباله را به دست آورید. ب) جمله ششم این دنباله را به دست آورید.	۱/۲۵
	« ادامه سوالات در صفحه سوم »	

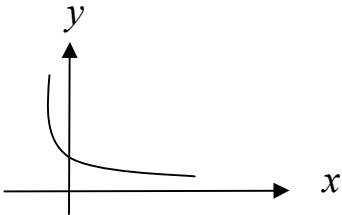
سؤالات امتحان نهایی درس: ریاضی و آمار ۳		رشته: ادبیات و علوم انسانی-علوم و معارف اسلامی		تعداد صفحه: ۳		ساعت شروع: ۸ صبح	
پایه: دوازدهم دوره دوم متوسطه		نام و نام خانوادگی:		تاریخ امتحان: ۱۴۰۰/۶/۲۷		مدت امتحان: ۱۲۰ دقیقه	
دانش آموزان روزانه، بزرگسال و داوطلبان آزاد سراسر کشور در شهریور ماه سال ۱۴۰۰				مرکز سنجش و پایش کیفیت آموزشی			
ردیف		توجه: استفاده از ماشین حساب ساده (دارای چهار عمل اصلی، جذر و درصد) بلامانع است. سؤالات (پاسخ نامه دارد)					
نمره							

۱۶	جاهای خالی را با اعداد مناسب تکمیل کنید. الف) ریشه پنجم عدد ۳۲ برابر است. ب) ریشه های چهارم عدد ۱۶ برابر و است. پ) ریشه سوم عدد ۲۷ برابر است.	۱
۱۷	حاصل هر یک از عبارت های زیر را به ساده ترین صورت ممکن بنویسید. $2^{-9} \times 2^9$ الف) $\frac{15^4}{15^2}$	۱
۱۸	نمودار مختصاتی تابع نمایی $y = \left(\frac{1}{4}\right)^x$ را رسم کنید.	۱
	جمع نمره	۲۰
	«موفق باشید»	

راهنمای تصحیح امتحان نهایی درس: ریاضی و آمار ۳	رشته: ادبیات و علوم انسانی – علوم و معارف اسلامی	مدت امتحان: ۱۲۰ دقیقه
پایه: دوازدهم دوره دوم متوسطه		تاریخ امتحان: ۱۴۰۰/۶/۲۷
دانش آموزان روزانه ، بزرگسال و داوطلبان آزاد سراسر کشور در شهریور ماه سال ۱۴۰۰		مرکز سنجش و پایش کیفیت آموزشی

ردیف	راهنمای تصحیح	نمره
۱	صفحه ۱۷ و ۶ و ۳۰ و ۵۹ کتاب الف) A (ب) جایگشت (پ) ترکیب (ت) اولین (ث) ۱ هرمورد (۰/۲۵)	۱/۲۵
۲	صفحه ۱۹ و ۳۴ و ۳۰ کتاب الف) صفر (ب) جعبه ای (پ) گردآوری و پاک سازی داده ها (ت) میانگین هرمورد (۰/۲۵)	۱
۳	صفحه ۱۱ کتاب الف) $\binom{9}{1} = \frac{9!}{1! \times 8!} = 9$ (۰/۵) ب) $\binom{3}{1} = 3$ (۰/۵)	۱
۴	صفحه ۱۸ کتاب 	۰/۵
۵	صفحه ۶ کتاب الف) $5 \times 4 \times 3 = 60$ (۰/۲۵) ب) $(0/75)$	۱
۶	صفحه ۱۴ کتاب الف) $S = \{(p,1), (p,2), (p,3), (p,4), (p,5), (p,6), (r,1), (r,2), (r,3), (r,4), (r,5), (r,6)\}$ (۰/۵) ب) $A = \{(p,1), (p,3), (p,5)\}$ (۰/۵)	۱
۷	صفحه ۲۶ کتاب الف) $p(A) = \frac{1}{4}$ (۰/۵) ب) $p(B) = \frac{1}{2}$ (۰/۵)	۱
۸	صفحه ۳۴ کتاب $\bar{x} = \frac{40}{10} = 4$ (۰/۲۵) (۰/۲۵) میان = ۳/۵	۱/۲۵
۹	صفحه ۵۴ کتاب $2, \frac{3}{2}, \frac{4}{3}, \frac{5}{4}$	۱
۱۰	صفحه ۷۰ کتاب $d = \frac{23-15}{5-1} = 2$ (۰/۷۵) ۱۷، ۱۹، ۲۱ (۰/۷۵)	۱/۵
	« ادامه پاسخ ها در صفحه دوم »	

راهنمای تصحیح امتحان نهایی درس: ریاضی و آمار ۳	رشته: ادبیات و علوم انسانی – علوم و معارف اسلامی	مدت امتحان: ۱۲۰ دقیقه
پایه: دوازدهم دوره دوم متوسطه		تاریخ امتحان: ۱۴۰۰/۶/۲۷
دانش آموزان روزانه ، بزرگسال و داوطلبان آزاد سراسر کشور در شهریور ماه سال ۱۴۰۰		مرکز سنجش و پایش کیفیت آموزشی

ردیف	راهنمای تصحیح	نمره
۱۱	صفحه ۷۱ کتاب $s_r = \frac{r_0}{r} [2 \times (1) + 19 \times (2)] \quad (1) = 400 \cdot (0/5)$	۱/۵
۱۲	صفحه ۷۱ کتاب $225 = 25 + (n-1)20 \quad (0/5) \rightarrow 200 = 20n - 20 \quad (0/5)$ $220 = 20n \quad (0/25) \rightarrow n = 11 \quad (0/25)$	۱/۵
۱۳	صفحه ۸۳ کتاب $16 = (x-3)(x+3) \quad (0/5) \rightarrow 16 = x^2 - 9 \quad (0/25) \rightarrow x = \pm 5 \quad (0/5)$	۱/۲۵
۱۴	صفحه ۸۴ کتاب الف هندسی است $r=4 \quad (0/5)$ پ هندسی است $r=10 \quad (0/5)$	۱
۱۵	صفحه ۷۶ کتاب الف $a_{n+1} = 5a_n$, $a_1 = 1 \quad (0/5)$ ب $a_6 = 1(5)^5 = 3125 \quad (0/75)$	۱/۲۵
۱۶	صفحه ۸۸ کتاب (الف) ۲ (۰/۲۵) (ب) ۲۰۲ (۰/۵) (پ) ۳ (۰/۲۵)	۱
۱۷	صفحه ۹۳ کتاب الف $15^2 = 225 \quad (0/5)$ ب $2^{9-9} = 1 \quad (0/5)$	۱
۱۸	صفحه ۱۰۲ کتاب 	۱
	« همکاران محترم لطفا به پاسخ های درست دیگر به تناسب بارم نمره دهید.»	جمع نمره ۲۰